

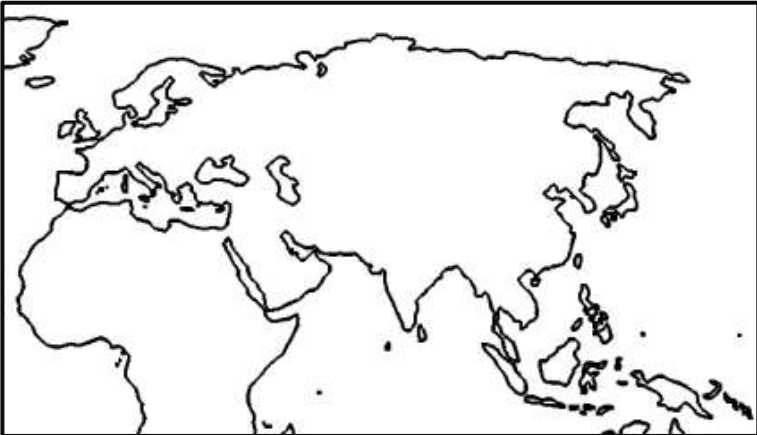
அலகு 01
ஆசியப் பிரதேசம்

அறிமுகம் :

உலகில் மிகப்பெரிய கண்டமாக ஆசியா காணப்படுகிறது. ஆசியப் பிரதேசத்தின் முக்கியத்துவம் வாய்ந்த விடயங்களை அறிந்து கொள்வது இவ் அலகின் நோக்கமாகும்.

1. ஆசியாவின் புவியியல் அமைவிடம்

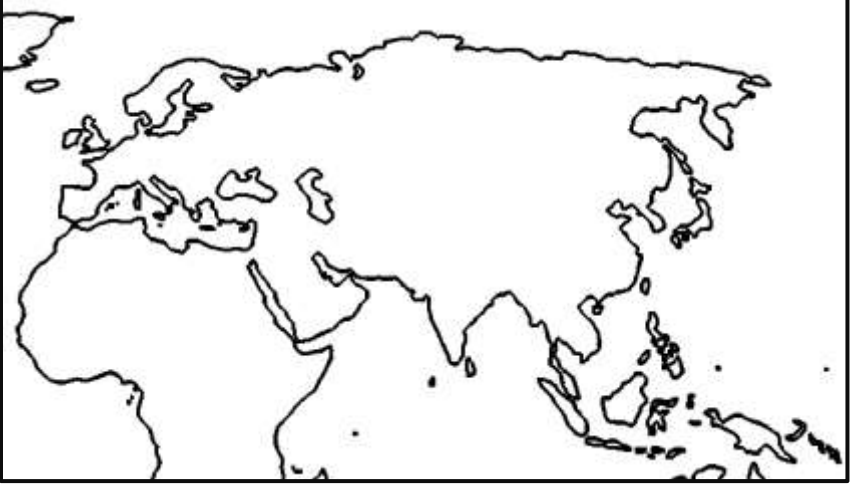
- (1) ஆசியாக் கண்டம் புவியின் கோளத்தில் பகுதியில் அமைந்துள்ளது.
- (2) ஆசியாவின் சார்பு அமைவிடத்தை (பிரதான எல்லைகள்) குறிப்பிடுக.
 - வடக்கில் :
 - கிழக்கில் :
 - தெற்கில் :
 - மேற்கில் :
- (3) ஆசியாவின் தனி அமைவிடத்தை குறிப்பிடுக?
 - தென் அகலக்கோடு 10° இருந்து வடஅகலக்கோடு 80° வரையிலும், கிழக்கு நெடுங்கோடு 25° இருந்து 180° வரையிலும் ஆசியா அமைந்துள்ளது.
- (4) ஆசியாவின் சார்பு அமைவிடத்தை உலகப்படத்தில் குறித்துக் காட்டுக.



Note :

- ஐரோப்பாவும் ஆசியாவும் ஒன்றாக சேர்ந்து ஒரே நிலமாக அமைந்துள்ளதால் அது **யூரேசியா** என அழைக்கப்படும்.

(5) ஆசியாவை ஐரோப்பா, ஆபிரிக்காவிலிருந்து வேறுபடுத்தும் புவியியல் அம்சங்களை உலகப்படத்தில் குறித்துக்காட்டுக?



(6) ஆசியாக் கண்டத்திற்கு உரிய பெரிய, சிறிய தீவுகள் 3 தருக?

- பெரிய தீவுகள் :
- சிறிய தீவுகள் :

2. ஆசியாவின் பௌதீக மானிட அடிப்படையிலான சிறப்புக்கள்.

(1) ஆசியாவின் சிறப்புக்கள் சிலவற்றைக் குறிப்பிடுக.

- **பௌதீகச் சிறப்புக்கள்**
 1. உலகில் மிகப் பெரிய கண்டமாக இருத்தல்.
 2. உலகின் அனைத்து காலநிலைகளும் காணப்படுதல்.
 3. உலகின் மிகப்பெரிய மலைத்தொடரும், மிக உயரமான மலைச்சிகரமும் அமைந்திருத்தல்.
- **மானிடச் சிறப்புக்கள்**
 1. பிரதான சமயங்கள் பலவற்றின் பிறப்பிடமாக இருத்தல்.
 2. அதிக சனத்தொகையைக் கொண்டிருத்தல்.
 3. பல்வேறு இனங்கள், மதங்கள், மொழிகள் காணப்படல்.

- (2) ஆசியாக்கண்டத்தின் பரப்பளவு
சதுர கிலோமீற்றர் ஆகும்.
- (3) புவியன் மொத்த மேற்பரப்பில் ஆசியா வீதத்தை
கொண்டுள்ளது.
- (4) புவியின் மொத்த நிலப்பரப்பில் வீதத்தை ஆசியா
கொண்டுள்ளது.
- (5) உலகின் மிகப்பெரிய மலைத் தொடரான
ஆசியாவில் அமைந்துள்ளது.
- (6) இமய மலை நீளத்தையும்,
உயரத்தையும் கொண்டுள்ளது.
- (7) உலகின் மிக உயரமான மலைச் சிகரம் ஆகும்.
- (8) உலகில் மிகவும் தாழ்வான பகுதி ஆகும்.
- (9) உலகில் அதிக மழைவீழ்ச்சியைப் பெறுகின்ற
பகுதியும், குறைவான மழை வீழ்ச்சியைப் பெறுகின்ற
..... ஆசியாக் கண்டத்தில் அமைந்துள்ளது.
- (10) உலக சனத்தொகையில் வீதமானவர்கள் ஆசியாவில்
வாழ்கின்றனர்.
- (11) உலகில் அதிக சனத்தொகையைக் கொண்டுள்ள
..... ஆசிய முதல் 2 நாடுகளும் ஆசியாவில்
அமைந்துள்ளது.
- (12) ஆசியாவில் காணப்படும் சுகந்திர நாடுகளின் எண்ணிக்கை
..... ஆகும்.
- (13) ஆசியாவின் சராசரி சனத்தொகை அடர்த்தி சதுர
கிலோமீற்றருக்கு பேர் ஆகும்.
- (14) சீனாவில் மட்டும் காணப்படும் மொழிகளின் எண்ணிக்கை
..... ஆகும்.

Note : இமய மலைத்தொடரால் இந்தியா ஆசியாவிலிருந்து பிரிந்து
தோற்றமளிப்பதால் அதனை இந்திய உபகண்டம் என அழைப்பர்.

3. ஆசியாவின் பௌதிக தரைத்தோற்றம், வடிகாலமைப்பு.

(1) ஆசியாக் கண்டத்தில் அமைந்துள்ள பிரதான மலைத்தொடர்கள் நான்கினைக் குறிப்பிடுக.

.....
.....

(2) இமய மலைத்தொடரில் அமைந்துள்ள மிக உயரமான சிகரங்கள் நான்கினைக் குறிப்பிடுக

.....
.....

(3) ஆசியாவில் அமைந்துள்ள மிகப் பெரிய மேட்டுநிலங்கள் நான்கினைக் குறிப்பிடுக.

.....
.....

(4) ஆசியாவில் அமைந்துள்ள சமவெளிகள் நான்கினைக் குறிப்பிடுக.

.....
.....

(5) ஆசியாவில் அமைந்துள்ள மிக முக்கியமான நதிகள் நான்கினைக் குறிப்பிடுக.

.....
.....

(6) ஆசியாவில் அமைந்துள்ள ஏரிகள் இரண்டினைக் குறிப்பிடுக.

.....
.....

(7) உலகில் மிக உயரமான(5000m) மேட்டுநிலமாக காணப்படுவது

.....

(8) உலகின் முகடு என மேட்டுநிலம் சிறப்பிக்கப்படுகிறது.

(9) சமவெளி ஆசியாவில் அமைந்துள்ள மிகப்பெரிய சமவெளி ஆகும்.

(10) ஆசியாவின் மிக நீளமான நதி

.....

(11) மஞ்சள் நதி என்று அழைக்கப்படும் நதி

.....

(12) உலகில் மிக ஆழமான நன்னீர் ஏரி

.....

(13) ஆசியாவில் பின்வரும் இடங்களைச் சென்றடையும் நதிகளைக் குறிப்பிடுக.

- ஆட்டிக் சமுத்திரம் :
- பசுபிக் சமுத்திரம் :
- இந்து சமுத்திரம் :
- பாரசீக குடா :
- ஏரல்கடல் :
- கஸ்பியன் கடல் :



4. ஆசியாவின் காலநிலை.

(1) புவியின் பிரதான காலநிலை வலயங்கள் எவை

.....

.....

.....

(2) அயன வலயத்தின் பண்புகள் சில தருக

- வருடம் முழுவதும் உயர்வான வெப்பநிலை நிலவுதல்.
- சராசரி வெப்பநிலை 18°C யை விட அதிகம்.

(3) இடைவெப்ப வலயத்தின் பண்புகள் சில தருக

- அயன வலயத்தை விட சராசரி வெப்பநிலை குறைவாகும்.
- பருவகால மாறுபாடுகள் இடம்பெறும்.

(4) கடுங்குளிர் வலயத்தின் பண்புகள் சில தருக

- வெப்பநிலை மிகக் குறைவாக காணப்படுதல்.
- பனிமூட்டமும் பனிமழையும் அதிகமாகக் காணப்படும்.

(5) பிரதான காலநிலை வலயங்களில் உப காலநிலை வலயங்கள் காணப்படுவதற்கான காரணங்கள் சிலவற்றைக் குறிப்பிடுக?

.....

.....

.....

Note :

- ஆசியா மத்திய கோட்டிலிருந்து வடமுனைவு வரை பரவிக் காணப்படுகின்றமையால் எல்லாக் காலநிலை வகைகளையும் இங்கு காணலாம்.
- ஆசியாவில் மிகக் குறைந்த வெப்பநிலை நிலவும் பிரதேசம் ரஷ்யாவின் வர்கோயேன்ஸ்.
- ஆசியாவில் அதிக வெப்பநிலை நிலவும் பிரதேசம் பாக்கிஸ்தானின் ஜகோபாபாத்.

(6) ஆசியாக் கண்டத்தில் காணக்கூடிய பிரதான காலநிலை வலயங்களையும், அவற்றின் உப காலநிலை வகைகளையும் அட்டவணைப்படுத்துக?

பிரதான காலநிலை	உப காலநிலை

5. ஆசியாவின் இயற்கைத் தாவரங்கள்

(1) ஆசியாவில் ஒவ்வொரு பிரதான காலநிலை வலயத்திலும் பரவியுள்ள இயற்கைத் தாவர வகைகளையும் அங்கு காணப்படும் காணப்படும் தாவரங்கள், விலங்குகளையும் எழுதுக.

இயற்கை தாவர வகைகள்	தாவரங்கள்	விலங்குகள்

6. ஆசியப் பிரதேசத்தின் மானிட நிலத்தோற்றம்.

(1) ஆசியாவில் தோன்றிய புராதன நாகரிகங்களையும் அவை தோன்றிய நதிகளையும் குறிப்பிடுக?

- மொகஹஞ்சதாரோ, ஹரப்பா நாகரிகம் : இந்து நதி
- குவாங்கோ நாகரிகம் : குவாங்கோ நதி
- மொசப்பதேமியா நாகரிகம் : யூப்பிரட்டீஸ் தைகிரிஸ் நதி

(2) ஆசியாவில் பிரதானமாக காணப்படும் 2 மனித இனங்களையும் அவர்கள் வாழுகின்ற நாடுகளையும் குறிப்பிடுக.

இனத்தவர்கள்	வாழும் நாடுகள்

7. ஆசியாவின் சனத்தொகைப் பரம்பல்.

(1) ஆசியாவின் மொத்த சனத்தொகை ஆகும்.

(2) சனத்தொகைப் பரம்பலில் செல்வாக்குச் செலுத்தும் காரணிகள் நான்கினைக் குறிப்பிடுக.

.....
.....

(3) ஆசியக் கண்டத்தில் சனத்தொகை கூடிய வலயங்கள் மூன்றினையும், சனத்தொகை குறைந்த வலயங்கள் நான்கினையும் குறிப்பிடுக?

• கூடியது :

• குறைத்தது :

(4) ஆசியாவில் சனத்தொகை கூடிய நாடுகள் ஆறு தருக.

.....

.....

.....

(5) ஆசியாவில் சனத்தொகை குறைந்த நாடுகள் ஆறு தருக.

.....

.....

.....

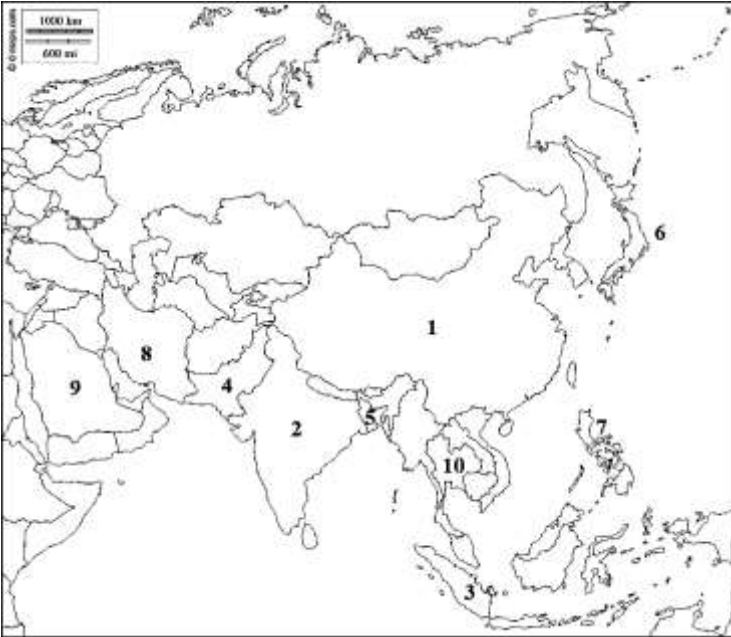
(6) அதிக சனத்தொகை கொண்ட ஆசிய நகரங்கள் ஆறு தருக.

.....

.....

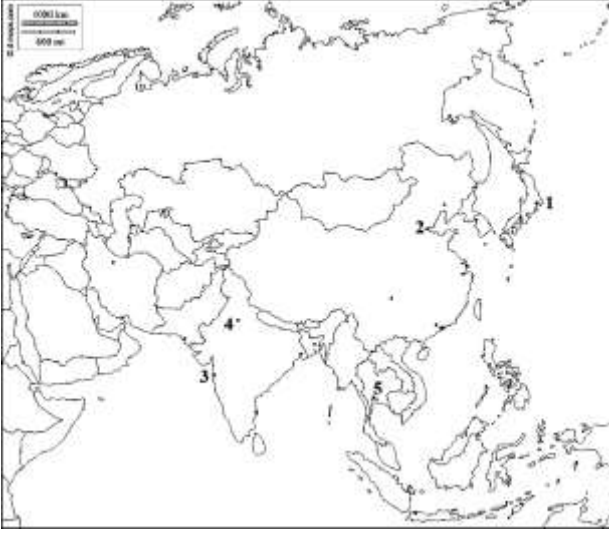
.....

(7) பின்வரும் ஆசியப் படத்தில் 1 தொடக்கம் 10 வரை இலக்கமிடப்பட்டுள்ள நாடுகளை குறிப்பிடுக



- 1.
- 2.
- 3.
- 4.
- 5.
- 6.
- 7.
- 8.
- 9.
- 10.

- (8) பின்வரும் ஆசியப் படத்தில் 1 தொடக்கம் 5 வரை இலக்கமிடப்பட்டுள்ள நகரங்களைக் குறிப்பிடுக.



- 1.
- 2.
- 3.
- 4.
- 5.

8. ஆசியாவின் பொருளாதாரம்

- (1) ஆசியாவில் விவசாயம் கைத்தொழில், சேவை போன்ற மூன்று பிரதான பொருளாதார நடவடிக்கைகள் இடம்பெறுகிறது.
- (2) ஆசியாவில் பொருளாதாரத்தின் ஒவ்வொரு பிரிவிலும் ஒவ்வொரு நாடுகள் முதன்மை பெறுகிறது.

- விவசாயம் : பாக்கிஸ்தான்
- கைத்தொழில் : யப்பான்
- சேவை : ருபாய்

- (3) பாக்கிஸ்தானின் பிரதான பொருளாதார நடவடிக்கை ஆகும்.
- (4) பாக்கிஸ்தானின் மொத்த உற்பத்தியில் அளவு விவசாயத்துறையினால் வழங்கப்படுகிறது.
- (5) பாக்கிஸ்தானின் மொத்த ஊழியர்களில் ஆனோர் விவசாயத்தில் ஈடுபடுகின்றனர்.
- (6) பாக்கிஸ்தானின் மொத்த நிலப்பரப்பில் விவசாயத்திற்கு பயன்படுத்தப்படுகிறது.
- (7) பருத்தியை உலக சந்தைக்கு வழங்கும் பிரதான நாடு ஆகும்.

(8) பாக்கிஸ்தானின் பிரதான விவசாய உற்பத்திகள் 6 தருக

.....
.....

(9) பாக்கிஸ்தானின் பிரதான விவசாயப் பருவங்களையும், காலம், பயரிடப்படும் பயிர்களையும் அட்டவணைப்படுத்துக.

பருவங்கள்	காலப் பகுதி	பயிர்கள்

(10) உலகின் பிரதான கைத்தொழில் நாடாக காணப்படுகிறது.

(11) யப்பானின் மொத்த உற்பத்தியில் அளவு கைத்தொழில் துறையினால் பெறப்படுகிறது.

(12) யப்பானின் மொத்த ஊழியர்களில் ஆனோர் கைத்தொழில் துறையில் ஈடுபடுகின்றனர்.

(13) உலகில் மூன்றாவது பாரிய பொருளாதாரத்தைக் கொண்ட நாடு

.....

(14) யப்பானில் உற்பத்தி செய்யப்படும் முக்கிய உற்பத்திகள் 6 தருக?

.....
.....
.....

(15) யப்பானின் பிரதான கைத்தொழில் துறை

.....

(16) யப்பான் மோட்டார் வாகன உற்பத்தியில் முன்னணியில் இருப்பதற்கான காரணங்கள்

.....

(17) யப்பானின் பிரதான மோட்டார் வாகன உற்பத்தி நிறுவனங்கள்

(18) யப்பானில் உள்ள இலத்திரனியல் உற்பத்தி நிறுவனங்கள்

(19) யப்பானில் உள்ள கணனி உற்பத்தி நிறுவனங்கள் எவை

(20) யப்பானில் அதிகளவில் பயன்படுத்தும் சக்தி வலு.

(21) யப்பானில் மரபனுத் தொழில் நுட்பம் பயன்படுத்தப்படும் துறைகள்.

(22) ஐக்கிய அரபு எமிரேட் மாநிலங்களைக் கொண்ட ஒரு கூட்டமைப்பாகும்.

(23) டுபாய் பொருளாதாரத்தின் அடிப்படையாக அமைவது உற்பத்தி ஆகும்.

(24) டுபாயின் மொத்த உற்பத்தியில் அளவு சேவைத் துறையினால் பெறப்படுகிறது.

(25) டுபாயின் மொத்த ஊழியர்களில் ஆனோர் சேவைத் துறையில் ஈடுபடுகின்றனர்.

(26) சேவை நிலையமாக டுபாய் முக்கியத்துவம் பெறுவதற்கான காரணங்கள் சில தருக.

- உலகில் கிழக்கையும் மேற்கையும் இணைக்கும் விமான சேவை மையமாக விளங்குகின்றமை.
- சுற்றுலா மையமாக விளங்குகின்றமை.
- சர்வதேச தொடர்பாடல் சேவையின் மையமாக விளங்குகின்றமை. (CNN)
- உலகின் மிகப்பெரிய வர்த்தக மையத்தை கொண்டுள்ளமை (dubai mall)
- சுகந்திர வர்த்தக துறைமுகத்தை கொண்டுள்ளமை (ஜேபில் அலி)
- சர்வதேச விளையாட்டுகளிற்கான இரவு, பகல் மைதான வசதிகளை வழங்கும் நிலையமாக காணப்படுதல்.